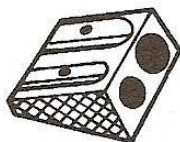


## Nombres et quantités: de 0 à 199




1 Ecris les nombres manquants:

183	....	....	186
-----	------	------	-----




....	....	....	126
------	------	------	-----



....	....	....	
....	....	....	
189	....	....	192

117	....	....	....
-----	------	------	------



155	....	....	....
-----	------	------	------

....	....	....	165
------	------	------	-----

....	....	....	
....	....	....	
....	....	....	
149	....	....	....
....	....	....	....
....	....	....	159

....	....	....
....	....	....
....	....	....
....	....	....

2 Colorie les nombres identiques :

cent - quatre - vingt - quatre

123

$100 + 80 + 4$

$100 + 20 + 3$

$100 + 9$

109

$100 + 40 + 9$

cent - neuf

cent - quarante - neuf

184

149

cent - vingt - trois

3 Complète :

182	$100 + 80 + 2$
146	
187	
141	

	$100 + 40 + 5$
	$100 + 90 + 3$
	$100 + 50 + 7$
	$100 + 10 + 9$

Prénom : \_\_\_\_\_

Date: \_\_\_\_\_

## Nombres et quantités : de 0 à 199



1 Complète le tableau:

nombre avant	nombre	nombre après
	145	
108		
		161
197		

2 Complète avec <, > ou =:

3  15

165 ..... 195

110 ..... 101

119 ..... 91

90 ..... 109

167 ..... 176

98 ..... 185

141 ..... 114

111 ..... 88

3 Relie les nombres à leur place sur la droite graduée

99

112

108

134

127

100

110

120

130

140

4 Complète la bande numérique:

